

Apellidos, Nombre:  
D.N.I.:

**Ejercicio 1**

El diagrama de Bode representado en la figura, corresponde a un sistema cuya función de transferencia es:

$$\frac{Y(s)}{U(s)} = G(s) = \frac{6}{(s+1)(s+2)(s+3)}$$

Razonar como se obtiene la respuesta de dicho sistema frente a una entrada del tipo  $u(t)=4\text{sen}(2\cdot t)$

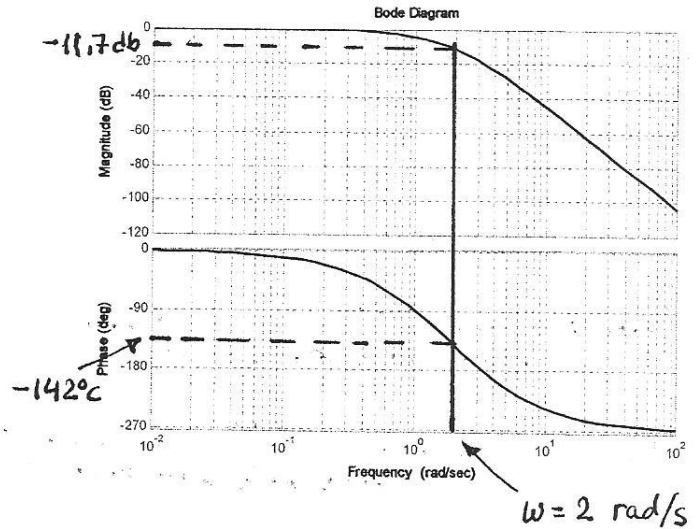
$$|G(j\omega)|_{\omega=2} = -11,7 \text{ db}$$

$$10^{(-11,7/20)} = 0,26$$

$$\angle G(j\omega)_{\omega=2} = -142^\circ = -2,4784 \text{ rad}$$

$$y_{rp}(t) = 4 \times 0,26 \text{ sen} [2t - 2,4784]$$

$$y_{rp}(t) = 1,04 \text{ sen} (2t - 2,4784)$$



**Ejercicio 2**

Un sistema viene definido por la siguiente ecuación diferencial:

$$\frac{dy(t)}{dt} + \frac{y(t)}{x(t)} + y(t) = x^2(t) + 2$$

Obtener el modelo lineal en torno al punto de funcionamiento definido por  $x_0=2$ . A partir del modelo lineal, obtener la función de transferencia  $Y(s)/X(s)$

$$\text{Pto. equilibrio} \Rightarrow \frac{y_0}{x_0} + y_0 = x_0^2 + 2 \Rightarrow y_0 = 4; x_0 = 2; \dot{y}_0 = 0$$

linealizamos:

$$\dot{y}_0 + \Delta \dot{y}(t) + \frac{y_0}{x_0} + \frac{1}{x_0} \Delta y(t) = \frac{y_0}{x_0^2} \Delta x(t) + y_0 + \Delta y(t) = x_0^2 + 2x_0 \Delta x(t) + 2$$

Sustituyendo valores:

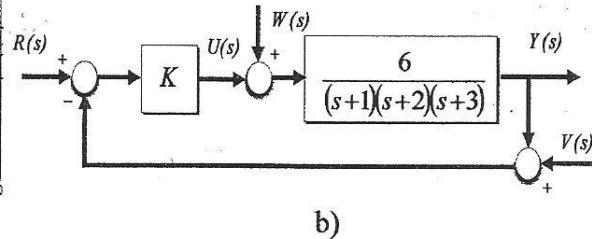
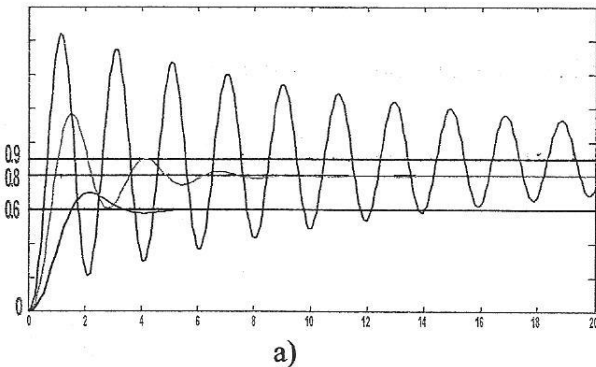
$$\Delta \dot{y}(t) + \frac{3}{2} \Delta y(t) - \Delta x(t) = 4 \Delta x(t)$$

Aplicando Laplace:

$$s y(s) + \frac{3}{2} y(s) = 5 x(s) \Rightarrow \frac{y(s)}{x(s)} = \frac{5}{s + \frac{3}{2}} = \frac{10}{2s + 3}$$

### Ejercicio 3

Las respuestas del sistema de la figura b) para tres valores diferentes de K, a entrada escalón unitario en R(s), se representan en la figura a). Determinar los valores de K y dibujar, de forma aproximada, el diagrama polar de L(s) para dichos valores de K y ordenarlos en cuanto a su estabilidad relativa.

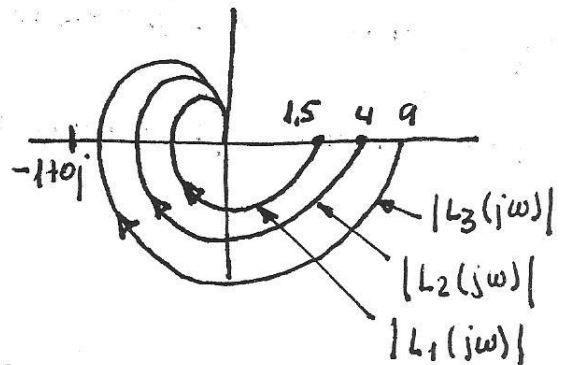


$$Y(s) = \frac{6K}{(s+1)(s+2)(s+3)+6K} \cdot R(s)$$

$$y(\omega) = \lim_{s \rightarrow 0} s \frac{6K}{(s+1)(s+2)(s+3)+6K} \cdot \frac{1}{s}$$

$$y(\omega) = \frac{K}{1+K}$$

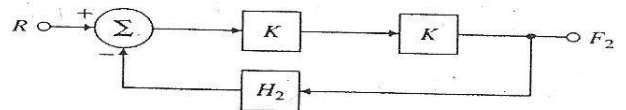
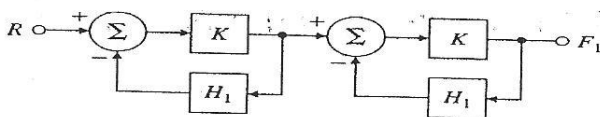
$$\begin{aligned} \text{a) } 0.6 &= \frac{K}{1+K} \Rightarrow K = 1.5 & \left\{ \begin{aligned} L_1(s) &= \frac{9}{(s+1)(s+2)(s+3)} \\ L_2(s) &= \frac{24}{(s+1)(s+2)(s+3)} \\ L_3(s) &= \frac{54}{(s+1)(s+2)(s+3)} \end{aligned} \right. \\ \text{b) } 0.8 &= \frac{K}{1+K} \Rightarrow K = 4 \\ \text{c) } 0.9 &= \frac{K}{1+K} \Rightarrow K = 9 \end{aligned}$$



a) más estable que b)  
b) más estable que c  
a > b > c

### Ejercicio 4

Comparar la sensibilidad de las dos estructuras de control de la figura ante variaciones en la ganancia K. Seleccionar H<sub>1</sub> y H<sub>2</sub> de modo que T<sub>1</sub>(s)=T<sub>2</sub>(s) y suponer también que KH<sub>1</sub>>0.



$$S_{T_1}^K = \frac{k}{k^2} \cdot \frac{2k(1+kH_1)^2 - k^2 2H_1(1+kH_1)}{(1+kH_1)^4}$$

Simplificando

$$S_{T_1}^K = \frac{2}{1+kH_1}$$

$$S_{T_2}^K = \frac{k}{k^2} \cdot \frac{2k(1+k^2H_2) - k^2 2kH_2}{(1+k^2H_2)^2}$$

$$S_{T_2}^K = \frac{2}{1+k^2H_2}$$

$$\frac{k^2}{(1+kH_1)^2} = \frac{k^2}{1+k^2H_2}$$

Despejando H<sub>2</sub>:

$$H_2 = H_1^2 + 2 \frac{H_1}{k}$$

$$S_{T_2}^K = \frac{S_{T_1}^K}{1+kH_1}$$